

2 上 階段評估 (二)

(包含 2 上 A 單元 4 至 5 的學習內容)

姓名：_____

班別：_____ ()

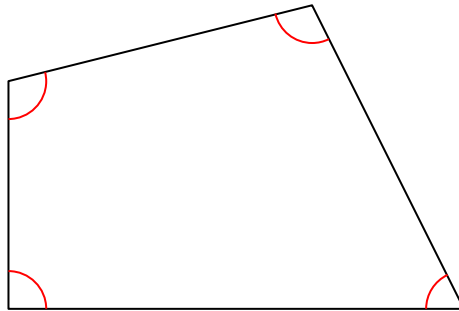
日期：_____

成績：_____ / 15

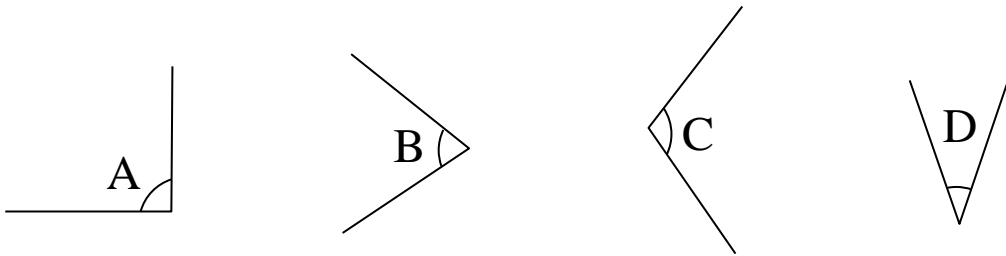
建議時間：30 分鐘

① 用 \sphericalangle 標示出以下圖形內的所有角。

(1 分)



② 把以下的角由大至小排列出來。

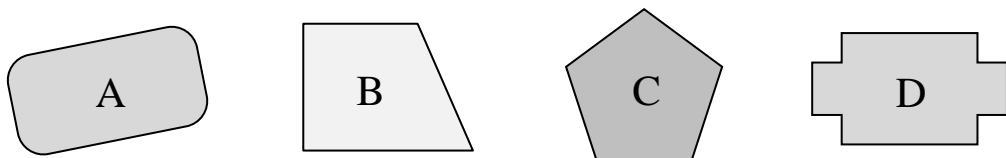


答案：角 C，角 A，角 B，角 D
(最大) (最小)

(1 分)
全對才給分

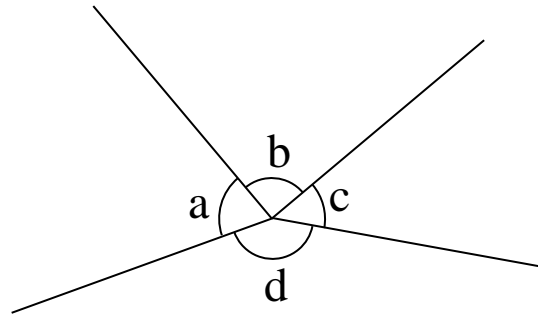
③ 下圖中，哪個 / 些平面圖形有直角？寫出所有代表答案的英文字母。

(1 分)



答案：B, D 全對才給分

④



(a) 上圖中，* 角 a / 角 b / 角 c / 角 d 比直角小。 (1 分)

(* 圈出所有答案) 全對才給分

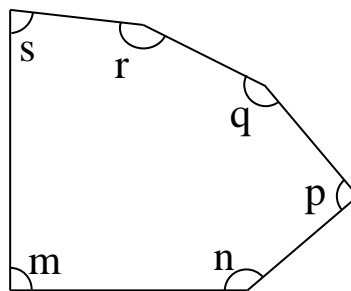
(b) 把角 b、角 c 和角 d 由小至大排列出來。 (1 分)

答案：角 c，角 b，角 d 全對才給分

(最小)

(最大)

⑤ 觀察下圖，下列哪些描述是正確的？寫出所有代表答案的英文字母。



- A. 角 s 是銳角。
- B. 只有角 q 和角 r 是鈍角。
- C. 角 m 和角 p 是直角。
- D. 角 n 是最大的角。

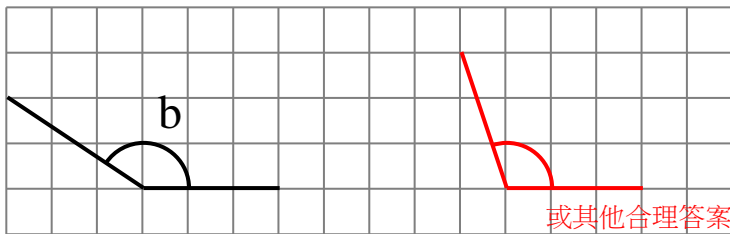
答案：A, C 全對才給分

(1 分)

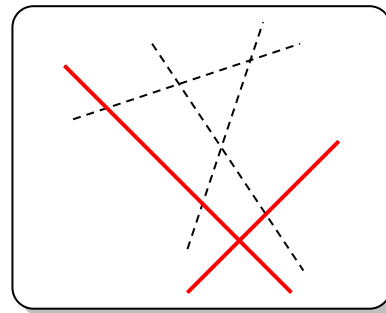
- ⑥ 在下面的方格紙上畫一個比角 a 大的銳角。 (1 分)



- ⑦ 在下面的方格紙上畫一個比角 b 小的鈍角。 (1 分)

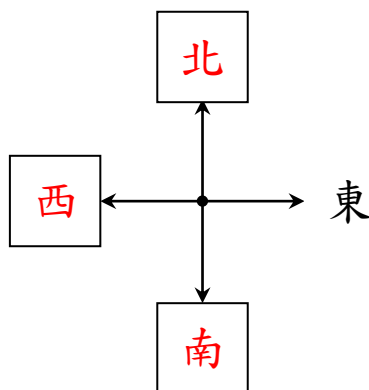


- ⑧ 在右圖中沿着虛線畫出一組垂直線。



(1 分)

- ⑨ 在空格內填寫適當的方向。全對才給分 (1 分)



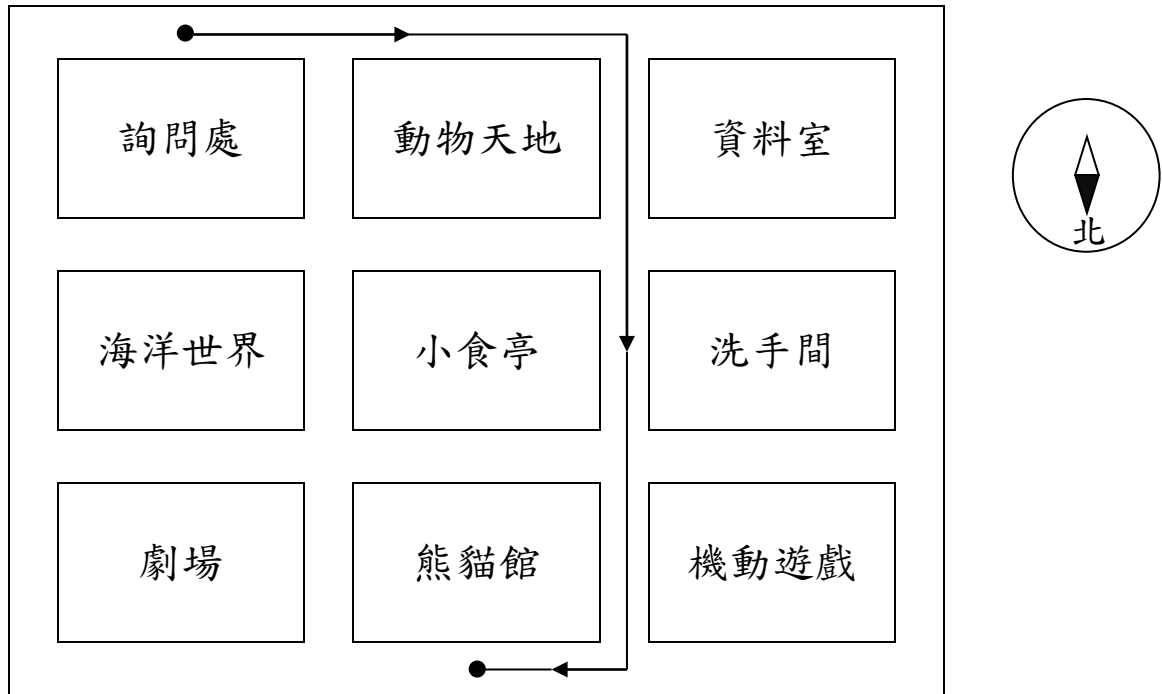
- ⑩ 子強 面向北方，他向左轉一個直角後，會面向 西 方。

(1 分)

⑪ 書店在花店的南方。花店在書店的哪一方？ (1 分)

- A. 東方 B. 南方
 C. 西方 D. 北方

⑫ 以下是主題公園的平面圖。



(a) 小食亭的東方有 海洋世界 。

(1 分)

(b) 資料室在機動遊戲的 南 方。

(1 分)

(c) 天明從詢問處出發走到熊貓館。上圖的 \longrightarrow 是他走過的路線，他走過的方向是：

西 方 \rightarrow 北 方 \rightarrow 東 方 全對才給分

(1 分)

— 全卷完 —

19TEST210.2T
19TEST210.2S